



**PENILAIAN AKHIR SEMESTER SEKOLAH DASAR
TAHUN PELAJARAN 2021/2022**

KURIKULUM 2013

Mata Pelajaran : Seni Budaya dan Prakarya
Kelas : 5 (Lima)

Hari/tanggal : Kamis, 2 Desember 2021
W a k t u : 09.30 – 11.00 (90 Menit)

PETUNJUK UMUM :

1. Tulislah nama dan nomor pada sudut kanan atas pada lembar jawab!
2. Bacalah tiap-tiap soal dengan sebaik-baiknya!
3. Kerjakan lebih dahulu soal yang kau anggap paling mudah!
4. Periksa kembali pekerjaan sebelum kau serahkan pada Bapak/Ibu Guru!

1. Berilah tanda silang (X) pada huruf a, b, c, atau d yang merupakan jawaban yang paling benar pada lembar jawab yang disediakan!

1. Kumpulan gambar ilustrasi yang merupakan gambar yang berurutan dan membentuk cerita disebut

a. kartu
b. kartun
c. komik
d. karikatur

2. Pemilihan teknik dalam menggambar akan berpengaruh terhadap

a. pembuatan sketsa
b. penyempurnaan gambar
c. persiapan bahan dan alat
d. penentuan tema

3. Komik yang isinya tentang hal-hal yang bersifat memberikan hiburan termasuk jenis komik

a. strip
b. humor
c. buku
d. edukasi

4. Gambar ilustrasi di samping memiliki corak



a. dekoratif
b. karikatur
c. kartun
d. realis

5. Salah satu ciri-ciri komik yang tepat adalah

a. bersifat proporsional
b. menentukan karakter
c. mendeskripsikan alur
d. tidak memiliki sifat jelas

6. Perhatikan beberapa judul lagu di bawah ini!

i. Gebyar-gebyar
ii. Indonesia Raya
iii. Hari Merdeka
iv. Syukur
v. Gugur Bunga

Judul lagu yang memiliki susunan tangga nada minor adalah

a. i dan ii
b. ii dan iii
c. iii dan iv
d. iv dan v

7. Alat musik yang tidak memiliki nada-nada yang beraturan sesuai dengan notasi disebut alat musik

a. mayor
b. minor
c. ritmis
d. melodis

8. Perhatikan alat musik berikut!

- i. Gitar
- ii. Piano
- iii. Seruling
- iv. Kulintang

Berdasarkan fungsinya alat musik di atas termasuk jenis alat musik

- a. mayor
- b. minor
- c. ritmis
- d. melodis

9.



Jika dilihat dari fungsinya, alat musik yang sejenis dengan alat musik di samping adalah

- a. seruling
- b. piano
- c. gitar
- d. castanyet

10. Tangga nada musik daerah Nusantara didominasi oleh tangga nada

- a. mayor
- b. minor
- c. pentatonis
- d. diatonis

11. Banyaknya notasi dalam tangga nada pentatonis adalah

- a. 4
- b. 5
- c. 6
- d. 7

12. Ana menyanyikan lagu dengan penuh semangat dan gembira, lagu yang sedang dinyanyikan oleh Ana menggunakan tangga nada

- a. minor
- b. mayor
- c. diatonis
- d. pentatonis

13. Gerak penari menyudut ke kiri atau ke kanan akan membentuk pola lantai

- a. lingkaran
- b. diagonal
- c. vertikal
- d. horizontal

14. Tari Gantar dari Kalimantan merupakan satu tarian tradisional Indonesia yang menggambarkan gerakan

- a. mengambil air
- b. mendayung sampan
- c. membersihkan beras
- d. menanam padi

15. Perhatikan gambar tarian berikut!




Tarian di samping menggunakan properti tari berupa

- a. payung
- b. selendang
- c. kipas
- d. boneka

16. Pola lantai lurus menimbulkan kesan

- a. tegas
- b. luwes
- c. lembut
- d. damai

17. Perhatikan gambar di bawah ini!



Sifat dari pola lantai yang dipakai pada tarian di samping adalah

- a. kuat
- b. tegas
- c. luwes
- d. kaku

18. Daerah penghasil batik terbesar di Nusantara adalah
- Jawa Tengah
 - Sulawesi Utara
 - Kalimantan Timur
 - Papua Barat
19. Mebeler, anyaman, gerabah jika dilihat dari fungsinya merupakan karya seni
- rupa
 - musik
 - terapan
 - murni
20. Patung adalah karya seni yang sangat umum kita jumpai jika kita berkunjung ke Candi Borobudur. Patung adalah salah satu karya seni rupa
- 2 dimensi
 - 3 dimensi
 - 4 dimensi
 - 5 dimensi

II. Isilah titik-titik di bawah ini dengan jawaban yang benar pada lembar jawaban yang telah tersedia!


21. Gambar di samping merupakan salah satu contoh gambar ilustrasi yang berbentuk



.....

22. Teknik menggambar ilustrasi dengan menggunakan alat gambar yang memerlukan air atau minyak sebagai pengencer disebut
23. Gambar ilustrasi yang dibuat menyerupai aslinya baik bentuk, perbandingan ukuran maupun tata letaknya merupakan gambar ilustrasi yang bercorak
24. Berikut adalah langkah membuat gambar ilustrasi.
- Menyiapkan alat dan bahan
 - Menentukan tema
 - Memahami teks/cerita
 -
 - Penyempurnaan gambar
- Langkah yang tepat untuk melengkapi pembuatan gambar ilustrasi di atas adalah

25. Alat dan bahan di samping digunakan untuk menggambar ilustrasi dengan teknik



26. Memiliki interval 1 - ½ - 1 - 1 - ½ - 1 - 1 merupakan ciri dari tangga nada

27. Lagu "Gugur Bunga" diciptakan oleh

28. Nada dasar dari lagu "Hari Merdeka" adalah

29. Perhatikan penggalan lirik lagu di bawah ini!

Dari yakin 'ku teguh
 Hati ikhlas 'ku penuh
 Akan karunia-Mu
 Tanah air pusaka
 Indonesia merdeka
 Syukur aku sembahkan
 Ke hadirat-Mu Tuhan


Lagu di atas memiliki tangga nada

30. Perhatikan gambar alat musik di bawah ini!




Berdasarkan fungsinya alat musik di samping merupakan jenis alat musik

31. Lagu wajib nasional ciptaan W.R. Supratman adalah
32. Secara umum tangga nada dibagi jadi tiga jenis, yaitu pentatonis, diatonis dan kromatis. Lagu daerah "Cublak Cublak Suweng" memiliki jenis tangga nada
33. Tarian yang menggunakan kostum berwarna cerah dan menggunakan payung kertas sebagai properti adalah tari
34. Pola lantai dari Tari Saman adalah

35.  Properti khas tarian di samping adalah

36. Setiap properti tari digunakan memiliki fungsi sendiri-sendiri. Fungsi topeng pada tari topeng Cirebon adalah

37.  Pola lantai tari pada gambar di samping adalah

38. Teknik membatik dengan menggunakan stempel yang di atasnya sudah berbentuk ragam hias batik disebut
39. Dalam pembuatan batik tulis memerlukan beberapa alat dan bahan. Bahan yang digunakan untuk membuat pola dalam pembuatan batik adalah
40. Seni rupa dilihat dari segi fungsinya dibedakan menjadi dua yaitu seni rupa murni dan seni rupa terapan, proses penciptaan seni rupa murni lebih menitikberatkan pada ekspresi jiwa semata merupakan jenis seni rupa

III. Jawablah pertanyaan-pertanyaan di bawah ini dengan jelas dan tepat pada lembar jawaban yang telah tersedia!

41. Sebutkan 3 corak gambar ilustrasi!
42. Sebutkan 3 ciri-ciri tangga nada minor!
43. Sebutkan 3 pola lantai garis lengkung!
44. Sebutkan 3 contoh tari yang menggunakan pola lantai garis lurus!
45. Sebutkan 3 alat yang digunakan dalam pembuatan batik tulis!