







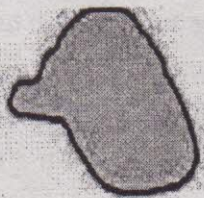
PENILAIAN AKHIR SEMESTER SEKOLAH DASAR  
TAHUN PELAJARAN 2021/2022

**KURIKULUM 2013**

Mata Pelajaran : Ilmu Pengetahuan Sosial  
Kelas : 5 ( Lima )





Hari/tanggal : Kamis, 2 Desember 2021  
W a k t u : 07.30 – 09.00 ( 90 Menit )

**PETUNJUK UMUM :**

- Tuliskan nama dan nomor pada sudut kanan atas pada lembar jawab!
  - Bacalah tiap-tiap soal dengan sebaik-baiknya!
  - Kerjakan lebih dahulu soal yang kau anggap paling mudah!
  - Periksa kembali pekerjaan sebelum kau serahkan pada Bapak/Ibu Guru!
- 
- Berilah tanda silang ( X ) pada huruf a, b, c, atau d yang merupakan jawaban yang paling benar pada lembar jawab yang disediakan!
    - Sungai pada peta disimbolkan ....
      - 
      - 
      - 
      - 
    - Dilihat dari angkasa pulau-pulau tampak seperti untaian Permata Hijau, oleh karena itulah Indonesia dijuluki ....
      - negara agraris
      - negeri Sakura
      - zamrud khatulistiwa
      - negeri Gajah Putih
    - Wilayah perairan Indonesia lebih luas daripada daratan. Kenyataan ini sangat menguntungkan Indonesia karena laut ....
      - menjadikan panorama Indonesia indah
      - menyimpan kekayaan yang sangat banyak
      - menjadi pemisah pulau di Indonesia
      - menjadikan transportasi antar pulau
    - 

Simbol pada peta di samping menggambarkan informasi geografis berupa ....

      - sungai
      - gunung
      - danau
      - laut

5. Indonesia terdiri dari banyak pulau sehingga disebut dengan ....
  - a. negara Indonesia
  - b. negara kepulauan
  - c. negara agraris
  - d. negara geografis
6. Perbandingan jarak pada peta dengan jarak sesungguhnya disebut ....
  - a. skala peta
  - b. simbol
  - c. judul peta
  - d. legenda
7. Adanya perbedaan suku bangsa di Indonesia tetap menjadikan kita hidup ....
  - a. bertengkar
  - b. berselisih
  - c. berkelahi
  - d. rukun
8. Pada peta, batas wilayah digambarkan dengan simbol ....
  - a. 
  - b. 
  - c. 
  - d. 
9. Organisasi petani dalam mengairi sawah disebut ....
  - a. PMI
  - b. POS
  - c. P3K
  - d. P3A
10. Perkembangan komunikasi termasuk upaya pembangunan dalam bidang ....
  - a. sosial
  - b. ekonomi
  - c. politik
  - d. pertahanan
11. Manusia tidak bisa hidup sendiri tanpa bantuan orang lain sehingga disebut ....
  - a. makhluk individu
  - b. kontak sosial
  - c. makhluk sosial
  - d. asas sosial
12. Kelompok karang taruna dengan kelompok ibu-ibu PKK melakukan hubungan interaksi sosial dalam mensukseskan acara perayaan hari ulang tahun kemerdekaan Indonesia. Kegiatan yang terjadi menunjukkan adanya interaksi ....
  - a. individu
  - b. antar individu
  - c. kelompok
  - d. antar kelompok

13. Manusia dapat saling belajar dan bertukar informasi dengan adanya interaksi sosial. Kenyataan ini membuktikan bahwa interaksi sosial dapat meningkatkan ....
  - a. kesejahteraan
  - b. keberagaman
  - c. kemandirian
  - d. keterampilan
14. Hubungan perdagangan antara penjual dan pembeli serta pemenuhan bahan-makan, sandang, pangan dan papan termasuk contoh dalam bidang ....
  - a. politik
  - b. sosial budaya
  - c. ekonomi
  - d. moral
15. Berikut ini perilaku manusia yang merupakan interaksi manusia dengan lingkungan yaitu ....
  - a. membuang sampah
  - b. melakukan reboisasi
  - c. membangun pabrik
  - d. membakar hutan
16. Penduduk yang tinggal di daerah pesisir biasanya berprofesi sebagai ....
  - a. nelayan
  - b. pekebun
  - c. petani
  - d. peternak
17. Surat berharga sebagai bukti seseorang menanamkan modal suatu perusahaan disebut ....
  - a. saham
  - b. modal
  - c. deviden
  - d. laba
18. Dalam kegiatan ekonomi, toko dan warung berperan sebagai ....
  - a. konsumen
  - b. distributor
  - c. produsen
  - d. produksi
19. Salah satu profesi yang ada di bidang transportasi adalah ....
  - a. montir
  - b. kasir
  - c. wartawan
  - d. masinis
20. Badan Usaha Milik Negara yang kegiatannya berkaitan dengan bidang transportasi adalah ....
  - a. PT Aneka tambang dan PTKAI
  - b. PT Pertamina dan Bulog
  - c. PT Pelindo dan PT Garuda Indonesia
  - d. PT Damri dan PT Pindad

II. Isilah titik-titik di bawah ini dengan jawaban yang benar pada lembar jawaban yang telah tersedia!

21. Indonesia terletak antara dua benua yaitu ... dan ....
22. Hewan mamalia yang berukuran besar seperti gajah, badak becula satu, banteng, macan merupakan fauna Indonesia tipe .....
23. Indonesia terletak di sekitar garis khatulistiwa sehingga beriklim .....
24. Garis yang membagi bumi menjadi belahan bumi utara dan belahan bumi selatan sama besar disebut garis .....
25. Pelayaran yang menghubungkan pelabuhan Indonesia dengan pelabuhan di luar negeri disebut pelayaran .....
26. Negara Indonesia sebagian besar penduduknya sebagai petani, sehingga Indonesia disebut dengan negara .....
27. Secara geografis Indonesia diapit oleh dua samudra yaitu ... dan ....
28. Salah satu kenampakan alam buatan yang berupa waduk terkenal di Kabupaten Wonogiri adalah .....
29. Kegiatan penyaluran barang dari produsen ke konsumen disebut .....
30. Bentuk interaksi sosial di pasar terjadi antara ... dan .....
31. Sebuah tindakan yang muncul karena adanya rasa prihatin terhadap orang lain disebut .....
32. Sebuah proses belajar dengan cara meniru orang lain yang berbuah positif maupun negatif disebut .....
33. Syarat utama terjadinya interaksi sosial adalah .....
34. Bibi membayar barang belanjaan di kasir supermarket. Interaksi sosial yang dilakukan oleh bibi didasari kepentingan .....
35. Interaksi yang terjadi antar daerah didasari adanya .....
36. Petani menggarap lahan pertanian merupakan contoh interaksi antara manusia dengan .....
37. Perusahaan yang modalnya dimiliki oleh negara disebut .....
38. Usaha bersama yang modalnya berupa kumpulan saham adalah .....
39. Daging dan telur merupakan hasil dari kegiatan di bidang .....
40. Kegiatan mengambil barang dengan cara menggali atau mengebor kedalam tanah disebut kegiatan .....

III. Jawablah pertanyaan-pertanyaan di bawah ini dengan jelas dan tepat pada lembar jawaban yang telah tersedia!

41. Jelaskan letak astronomis Indonesia!
42. Sebutkan komponen-komponen pada peta!
43. Apa yang dimaksud interaksi sosial?
44. Sebutkan 2 faktor terjadinya interaksi antar warga masyarakat!
45. Apa yang dimaksud dengan makhluk sosial?