



**PENILAIAN AKHIR SEMESTER SEKOLAH DASAR  
TAHUN PELAJARAN 2021/2022**

**KURIKULUM 2013**

Mata Pelajaran : PPKn  
Kelas : 3 ( Tiga )






Hari/tanggal : Rabu, 1 Desember 2021  
W a k t u : 09.30 – 10.30 ( 60 Menit )

**PETUNJUK UMUM :**

1. Tulislah nama dan nomor pada sudut kanan atas pada lembar jawab!
2. Bacalah tiap-tiap soal dengan sebaik-baiknya!
3. Kerjakan lebih dahulu soal yang kau anggap paling mudah!
4. Periksa kembali pekerjaan sebelum kau serahkan pada Bapak/Ibu Guru!

**I. Berilah tanda silang ( X ) pada huruf a, b, c, atau d yang merupakan jawaban yang paling benar pada lembar jawab yang disediakan!**

1. Perhatikan tabel di bawah ini!

Simbol	Bunyi
(i) 	A. Persatuan Indonesia.
(ii) 	B. Ketuhanan Yang Maha Esa.
(iii) 	C. Kemanusiaan yang adil dan beradab.
(iv) 	D. Keadilan sosial bagi seluruh rakyat Indonesia.
(v) 	E. Kerakyatan yang dipimpin oleh hikmat kebijaksanaan dalam permusyawaratan perwakilan.

Pasangan simbol dan bunyi sila Pancasila yang benar adalah ....

- a. (i) - A
- b. (ii) - B
- c. (iii) - C
- d. (iv) - D

2. Hubungan sesama manusia yang saling membantu merupakan makna simbol ....

a.



c.



b.



d.



3. Bunyi sila Pancasila yang dilambangkan dengan kepala banteng adalah ....

a. Kemanusiaan yang adil dan beradab.

b. Persatuan Indonesia.

c. Kerakyatan yang dipimpin oleh hikmat kebijaksanaan dalam permusyawaratan perwakilan.

d. Keadilan sosial bagi seluruh rakyat Indonesia.

4. Di bawah yang **bukan** merupakan cara mensyukuri karunia Tuhan yang berupa keanekaragaman tumbuhan adalah ....

a. membiarkannya

c. memupuknya

b. menyiramnya

d. merawatnya

5. Berolahraga yang teratur dan beristirahat yang cukup merupakan salah satu cara mensyukuri karunia Tuhan yang berupa ....

a. kekayaan

c. kegemaran

b. kesehatan

d. kemampuan

6. Edo selalu bermain bersama ayah dan ibu. Untuk mendapatkan hak tersebut, Edo harus melaksanakan kewajiban ... orang tua.

a. menjauhi

c. membantah

b. memarahi

d. menyayangi

7. Perhatikan tabel berikut!

No	Pernyataan
1.	Mengenakan dengan hati-hati.
2.	Mendapat pakaian dari orang tua.
3.	Melipat dan menyimpan dengan rapi.
4.	Berpakaian sesuai kebiasaan daerah.
5.	Mendapat pakaian yang bersih dan rapi

Berdasarkan tabel di samping, yang merupakan kelompok kewajiban terhadap pakaian adalah ....

a. 1 dan 2

b. 1 dan 3

c. 2 dan 4

d. 2 dan 5

8. Perhatikan pernyataan di bawah ini!

(1) Tidak menyisakan makanan.

(2) Mensyukuri makanan yang ada.

(3) Mencuci tangan sebelum makan.

(4) Mendapat makanan yang sehat dan bergizi.

Kewajiban yang harus dilakukan terhadap makanan yang tepat adalah nomor ....

a. (1), (2), dan (3)

c. (1), (3), dan (4)

b. (1), (2), dan (4)

d. (2), (3), dan (4)

9. Cara mengingatkan teman yang melakukan kesalahan adalah ....

a. dengan suara keras

c. dengan pura-pura tidak tahu

b. dengan mendiamkannya

d. dengan bahasa yang santun

10. Berikut yang termasuk hak sebagai warga negara adalah ....
- mematuhi aturan negara
  - memelihara fasilitas milik negara
  - mendapatkan fasilitas kesehatan
  - membayar pajak kendaraan bermotor
11. Kepala keluarga merupakan peran seorang ....
- ibu
  - anak
  - ayah
  - saudara
12. Perhatikan tabel berikut!

No	Hak
1.	Menghormati orang tua.
2.	Mendapat kasih sayang.
3.	Mendampingi belajar adik.
4.	Mendapat rumah yang bagus.
5.	Mendapat pakaian yang layak.

Berdasarkan tabel di samping, yang merupakan kelompok hak anak di rumah adalah ....

- 1 dan 2
- 1 dan 3
- 2 dan 4
- 2 dan 5

13. Perhatikan tabel berikut!

No	Anggota keluarga	Sifat
1.	Ayah	bijaksana
2.	Ibu	pemalu
3.	Edo	rajin
4.	Lani	sabar

Ayah dan Edo memiliki sifat ....

- bijaksana dan pemalu
- bijaksana dan rajin
- pemalu dan rajin
- pemalu dan sabar

14. Di bawah ini adalah perilaku terpuji yang harus kita contoh adalah ....
- pemaaf
  - pemalu
  - penakut
  - pemarah
15. Udin memiliki banyak teman yang berbeda-beda perilaku dan kegemarannya. Agar dapat bergaul dengan semua temannya, sebaiknya Udin bersikap ....
- diam
  - sombong
  - pemberani
  - menghargai
16. Kegiatan kerjasama untuk mencapai keputusan bersama disebut ....
- kerja bakti
  - musyawarah
  - gotong royong
  - kerja kelompok
17. Salah satu contoh kerja sama yang dilakukan di lingkungan sekolah adalah ....
- melaksanakan piket
  - mengerjakan ulangan
  - membersihkan rumah
  - memperbaiki jembatan
18. Perhatikan gambar di bawah ini!



Gambar di samping menunjukkan contoh kerja sama di lingkungan ....

- kerja
- rumah
- sekolah
- masyarakat

