



**PENILAIAN TENGAH SEMESTER II SEKOLAH DASAR  
TAHUN PELAJARAN 2020 / 2021**

Muatan Pelajaran : SBdP  
Kelas : II (Dua)

Hari, tanggal : Kamis, 4 Maret 2021  
Waktu : 07.30 - 09.00 (90 menit)

**Petunjuk Umum :**

1. Tulislah nama dan nomor pada lembar jawab!
2. Bacalah tiap-tiap soal dengan sebaik-baiknya!
3. Kerjakan lebih dahulu soal yang kamu anggap paling mudah!
4. Periksa kembali pekerjaanmu sebelum kamu serahkan kepada bapak/ibu guru!

**I. Berilah tanda silang (X) pada huruf a, b, atau c yang merupakan jawaban yang paling benar pada lembar jawab yang telah disediakan!**

1. Sebuah karya seni yang memiliki panjang, lebar, dan tinggi disebut karya seni ....
  - a. dua dimensi
  - b. tiga dimensi
  - c. multi dimensi
2. Udin mendapatkan tugas dari guru untuk membuat karya seni dua dimensi.  
Udin membuat ....
  - a. gambar mobil
  - b. mobil-mobilan dari tanah liat
  - c. cerita tentang mobil
3. Riki membuat mozaik biji-bijian yang berbentuk jeruk. Riki ingin mozaiknya berwarna kuning. Riki menggunakan ....
  - a. beras
  - b. kacang hijau
  - c. biji jagung

4.  $\overline{34} | 5153 | 5..$   
balonku ada lima

Penggalan lagu "Balonku" di atas yang dinyanyikan dengan bunyi panjang adalah ....



- a. ba
- b. ku
- c. ma

5. Panjang dan pendek bunyi dalam lagu dibuat bervariasi agar ....

- a. terdengar lama
- b. terdengar indah
- c. terdengar keras


6. Perhatikan gambar di bawah!



Edo melakukan gerak tari menirukan ayam sedang ....

- a. mematok makanan
- b. mengepakkan sayap
- c. bertengger

7. Gerakan yang tepat untuk memperagakan bunga yang sedang kuncup adalah ....



8. Untuk menirukan gerakan ular, Edo melakukan gerakan ....

- a. meliuk-liuk
- b. melompat
- c. menggeleng


9. Di bawah ini karya seni yang menggunakan bahan buatan adalah ....

- a. ukiran sabun
- b. ketupat
- c. gerabah




10. Di bawah ini yang merupakan bahan lunak adalah ....
- kayu
  - plastisin
  - kaca

**II. Isilah titik-titik di bawah ini dengan jawaban yang singkat dan tepat pada lembar jawab yang disediakan!**

11.  Karya seni di samping termasuk karya seni ... dimensi.

12. Krayon adalah salah satu alat yang berfungsi untuk ....
13. Arang dapat digunakan sebagai pewarna alami yang menghasilkan warna ....
14. Tekanan nada pada lagu ada dua yaitu ... dan ....
15. Tanda "<" dalam lagu memiliki arti ....
16. Lagu yang bersifat senang biasanya memiliki tempo yang ....
17. Anggota tubuh yang bergerak ketika melakukan gerakan mengganggu adalah ....
18. Wulan merentangkan kedua tangannya dan menggerakkannya naik turun berulang-ulang. Wulan memperagakan gerak burung sedang ....

19.  Karya seni di samping dibuat dengan bahan dasar dari ....

20. Gerabah adalah karya seni 3 dimensi yang terbuat dari ....

**III. Kerjakanlah soal-soal di bawah ini dengan jelas dan tepat pada lembar jawab yang telah disediakan!**

21. Benda-benda di ruang tamu Bu Siti diantaranya adalah patung, vas bunga, lukisan, taplak meja batik, guci, dan foto keluarga.  
Sebutkan 3 benda yang termasuk karya seni tiga dimensi yang ada di ruang tamu Bu Siti!



22. Sio tantina burung tantina  
Mati dipanah Raja ....  
.... bukan sakit penyakit  
Kabarnya datang dari ....

Lengkapilah lirik lagu "Burung Tantina" di atas!

23. Anggota tubuh manakah yang paling aktif untuk melakukan gerak tari yang memperagakan :
- mencuci piring
  - katak melompat
  - ayam sedang makan
24. Sebutkan 3 biji-bijian yang dapat digunakan membuat mozaik di kertas!
25. Perhatikan proses pembuatan karya seni di bawah ini!
- Rapikan dengan menggunakan butsir.
  - Buatlah pilinan dan lempengan lingkaran sebagai alas.
  - Lilitkan di atas lempengan.

Urutkan langkah-langkah dalam pembuatan vas bunga!

*~Selamat Mengerjakan~*