



**PENILAIAN AKHIR SEMESTER SEKOLAH DASAR  
TAHUN PELAJARAN 2020/2021**

**KURIKULUM 2013**

Muatan Pelajaran : Seni Budaya dan Prakarya  
Kelas : 1 ( Satu )

Hari/tanggal : Kamis, 3 Desember 2020  
W a k t u : 07.30 – 09.00 ( 90 menit )

**PETUNJUK UMUM :**

1. Tulislah nama dan nomor pada sudut kanan atas pada lembar jawab!
2. Bacalah tiap-tiap soal dengan sebaik-baiknya!
3. Kerjakan lebih dahulu soal yang kau anggap paling mudah!
4. Periksa kembali pekerjaan sebelum kau serahkan pada Bapak/Ibu Guru!

**I. Berilah tanda silang ( X ) pada huruf a, b, atau c yang merupakan jawaban yang paling benar pada lembar jawab yang disediakan!**

1. Melukis dengan jari menggunakan cat ....
  - a. tembok
  - b. kayu
  - c. air
2. Bahan yang digunakan untuk melukis dengan jari harus ....
  - a. berbahaya
  - b. aman
  - c. mahal
3. Setiap orang mempunyai suara yang berbeda disebut ....
  - a. warna suara
  - b. jenis suara
  - c. nada suara
4. Hujan termasuk bunyi ....
  - a. buatan
  - b. alam
  - c. rintik rintik
5. Ayam berkokok sambil mendongakkan ....
  - a. kepala
  - b. kaki
  - c. sayap

6.



Kegiatan anak seperti gambar di samping menirukan gerakan ....

- a. ayam
- b. kupu kupu
- c. kelinci

7. Gerak dalam tari dibagi menjadi ....

- a. 4
- b. 3
- c. 2

8. Bahan alam yang digunakan untuk membuat boneka kulit jagung adalah ....

- a. kayu
- b. kertas
- c. kulit jagung

9. Untuk menghias tepi pada kartu kata dapat menggunakan ....

- a. batu
- b. daun kering
- c. tanah liat

10. Ada batang daun pepaya, kerang, senar, siti membuat kerajinan ....

- a. meronce
- b. mengecap
- c. mencetak

**II. Isilah titik-titik di bawah ini dengan jawaban yang singkat dan tepat pada lembar jawab yang disediakan!**

11. Cat air dan krayon merupakan alat untuk ....

12.




Perhatikan gambar di samping!

benda seperti gambar di samping namanya ....

13. Campuran warna kuning dan biru menjadi ....

14.



Benda seperti gambar di samping sebagai bahan untuk . . . .

15. Dalam membuat kolase, sebelum sobekan kertas ditempel terlebih dahulu membuat . . . .

16. Lagu tari tepuk tangan diciptakan oleh . . . .

17.



Alat musik seperti gambar di samping dibunyikan dengan cara . . . .

18. Peluit termasuk bunyi . . . .

19. Bila dalam lagu ada tanda (●) maka harus dinyanyikan dengan bunyi . . . .

20. Dalam lagu "pergi belajar" yang harus dihormati adalah . . . .

21.



Kegiatan anak seperti gambar di samping menirukan gerakan kelinci . . . .


22. Tari saman merupakan salah satu contoh gerak tari . . . .

23. Lagu dua mata saya menceritakan tentang . . . .

24. Musik lambat untuk mengiringi gerak tari . . . .


25. Menari gerakan kupu kupu, tangan diayunkan ke . . . .

26.



Hasil karya seperti gambar di samping menggunakan biji . . . .

27.



Benda seperti gambar di samping dibuat menggunakan ....

28. Supaya biji bijian menempel pada kertas kita menggunakan ....

29. Kulit jagung termasuk bahan dari ....

30. Merangkai dengan tali disebut ....

**III. Jawablah pertanyaan-pertanyaan di bawah ini dengan jelas dan tepat pada lembar jawaban yang telah tersedia!**

31. Sebutkan 3 alat untuk mewarnai gambar!

32. Sebutkan 2 contoh bahan yang dapat digunakan untuk mencetak!

33. Perhatikan lagu berikut!

**Topi Saya Bundar**

Ciptaan: Pak Kasur

| 0 . 5 | 5 . 3 | i . 3 | 2 . . | 0 . 2 | 4 . 6 |  
 to pi sa ya bun dar bun dar to  
 ● ● ● ● ● ● ● ● ● ●

| 5 . 4 | 3 . . | 0 . 5 | 5 . 3 | i . 5 | 2 . . |  
 pi sa ya ka lau ti dak bun dar  
 ● ● ● ● ● ● ● ● ● ●

| 0 . 1 | 7 . 5 | 6 . 7 | i . . |  
 bu kan to pi sa ya  
 ● ● ● ● ● ● ● ●

Sebutkan bunyi panjang yang terdapat dalam lagu tersebut!

34. Sebutkan 2 contoh tarian dengan menirukan gerakan alam!

35. Sebutkan bahan bahan untuk membuat kartu kata!