



PENILAIAN AKHIR SEMESTER SEKOLAH DASAR
TAHUN PELAJARAN 2020/2021

KURIKULUM 2013

Muatan Pelajaran : Matematika
Kelas : 1 (Satu)


Hari/tanggal : Rabu, 2 Desember 2020
W a k t u : 07.30 – 09.00 (90 menit)

PETUNJUK UMUM :

1. Tulislah nama dan nomor pada sudut kanan atas pada lembar jawab!
2. Bacalah tiap-tiap soal dengan sebaik-baiknya!
3. Kerjakan lebih dahulu soal yang kau anggap paling mudah!
4. Periksa kembali pekerjaan sebelum kau serahkan pada Bapak/Ibu Guru!

1. Berilah tanda silang (X) pada huruf a, b atau c yang merupakan jawaban yang paling benar pada lembar jawab yang disediakan!

1.




Kelompok buah pada gambar di samping berjumlah

....

- a. 9
- b. 10
- c. 11

2. **14** Kelompok benda yang sesuai dengan lambang bilangan di samping

a.



b.



c.



3.

20

Nama bilangan dari lambang bilangan di samping


....

- a. sepuluh
- b. dua belas
- c. dua puluh

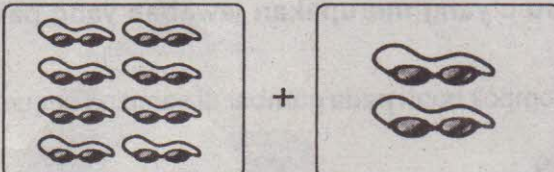
4. *Enam belas*, apabila ditulis lambang bilangannya adalah

- a. 16
- b. 17
- c. 18

5. Dayu memiliki 13 buah pensil, sedangkan Lani memiliki 2 pensil lebih banyak dari Dayu. Pensil Dayu ... daripada pensil Lani.
- sama banyak
 - lebih banyak
 - lebih sedikit



Perbandingan yang tepat untuk mengisi pernyataan di atas adalah


- 8 sampo sama banyak dengan 8 sampo
 - 8 sampo lebih banyak dari pada 8 sampo
 - 8 sampo lebih sedikit dari pada 8 sampo
7.  Jumlah kedua kacamata seperti gambar di samping adalah
- $8 + 1 = 9$
 - $8 + 2 = 10$
 - $8 + 3 = 11$



Pola gambar yang tepat untuk mengisi titik-titik di atas adalah

- 
- 
- 

9. Bangun ruang yang memiliki tutup dan alas berbentuk lingkaran adalah
- balok
 - kubus
 - tabung




Benda yang paling berat pada gambar di atas adalah


- boneka monyet
- mobil-mobilan
- robot


II. Isilah titik-titik di bawah ini dengan jawaban yang benar pada lembar jawaban yang telah tersedia


11. Nama bilangan dari 14 adalah

12.  Lambang bilangan dari jumlah gambar benda di samping adalah

13. Lambang bilangan *delapan belas* adalah

14.  Jumlah benda seperti gambar di samping adalah

15.  Jumlah buah seperti gambar di samping adalah

16.  ... puluhan ... satuan

Dari gambar di atas bila ditulis nilai tempatnya adalah

17.

20	15	13	18	14	12	17	11	16	19
----	----	----	----	----	----	----	----	----	----

Urutan bilangan di atas dari yang terkecil adalah

18. Bola Edo berjumlah 12 buah, bola Beni berjumlah 16.

Maka bola Beni lebih ... dari bola Edo.

19. Ibu membawa telur 10 butir, kemudian membeli lagi 6 butir. Telur ibu sekarang menjadi

20.

11	+	6	=
----	---	---	---	------

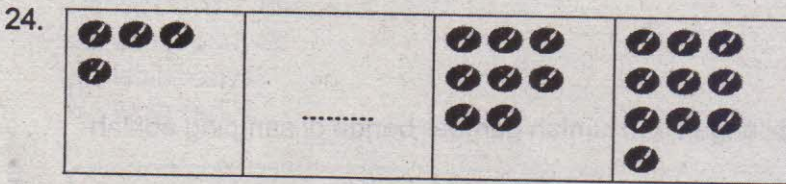
21. Udin membawa 16 ekor anak ayam, Mutiara melepaskan 3 ekor di halaman. Jumlah ayam Udin sekarang masih

22.

			
---	---	---	--

Pola gambar di atas bila ditulis menjadi pola bilangan adalah

23. Lanjutan pola bilangan 1, 3, 5,



Pola gambar di atas kotak yang kosong diisi


25. Bangun datar di samping berbentuk



26. Bangun ruang yang memiliki 6 sisi yang sama dinamakan

27. Segitiga, lingkaran, dan persegi adalah contoh dari bangun

28. Berat boneka monyet di samping ada ... kelereng



29. Mengukur berat benda dengan kelereng termasuk alat ukur

30. Mengukur berat benda menggunakan

III. Jawablah pertanyaan-pertanyaan di bawah ini dengan jelas dan tepat pada lembar jawaban yang telah tersedia!

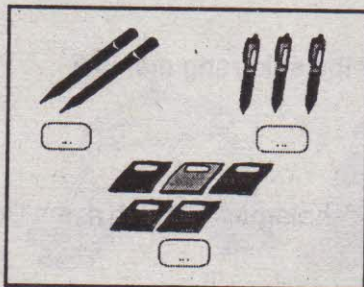
31. Lani memiliki 12 pensil, sedangkan Dayu pensilnya 17 pensil.

Tuliskan perbandingan untuk pernyataan di atas menggunakan kata *kurang dari, lebih dari, sama dengan!*

32. Tulislah gambar di samping menggunakan nilai tempatnya!



33. Tulislah pola dari gambar di samping menjadi pola bilangan!



34. Gambarkan 3 contoh bangun datar yang kamu ketahui!

35. Buatlah 2 contoh perbandingan berat benda!