



## PENILAIAN TENGAH SEMESTER II SEKOLAH DASAR TAHUN PELAJARAN 2020 / 2021

Muatan Pelajaran : SBdP  
Kelas : III (Tiga)

Hari, tanggal : Kamis, 4 Maret 2021  
Waktu : 07.30 - 09.00 (90 menit)

### Petunjuk Umum :

1. Tulislah nama dan nomor pada lembar jawab!
2. Bacalah tiap-tiap soal dengan sebaik-baiknya!
3. Kerjakan lebih dahulu soal yang kamu anggap paling mudah!
4. Periksa kembali pekerjaanmu sebelum kamu serahkan kepada bapak/ibu guru!

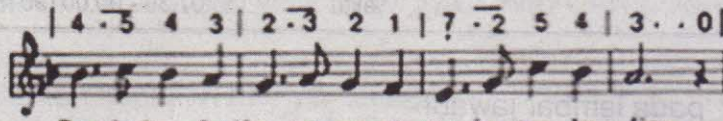
### I. Berilah tanda silang (X) pada huruf a, b, c atau d di depan jawaban yang paling benar pada lembar jawab yang telah disediakan!

1. Gambar dekoratif dibuat dengan menggabungkan ....
  - a. titik, gambar, warna, garis
  - b. titik, simbol, warna, bidang
  - c. titik, garis, bidang, warna
  - d. titik, simbol, gambar, warna
2. Contoh dekoratif dua dimensi ....
  - a. kain batik
  - b. patung
  - c. kaca mata
  - d. gelas
3. Warna yang digunakan untuk membuat motif daun ....
  - a. merah
  - b. kuning
  - c. hijau
  - d. biru
4. Perhatikan beberapa benda berikut ini!
  1. Kanvas
  2. Kabel
  3. Cat lukis
  4. Kayu
  5. KuasAlat yang digunakan untuk membuat lukisan dekoratif adalah ....
  - a. 1, 4
  - b. 1, 3
  - c. 2, 5
  - d. 3, 4

5. Panjang pendeknya bunyi disebut ....
- birama
  - pola irama
  - melodi
  - oktaf

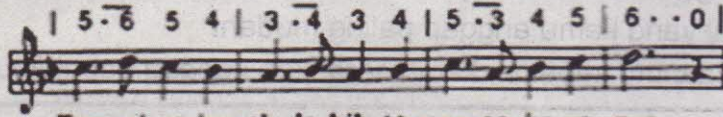
6. Perhatikan lagu di bawah!

4 . 3 4 3 | 2 . 3 2 1 | 7 . 2 5 4 | 3 . . 0 |



Ber-kelap-kelip se-um-pa-ma in-tan ber-lian .

5 . 6 5 4 | 3 . 4 3 4 | 5 . 3 4 5 | 6 . . 0 |




Tampak se-bu-ah le-bih te-rang ca-ha-ya-nya , , '

Lagu tersebut merupakan potongan dari lagu ....

- Bintang Kejora
  - Bintang Kecil
  - Ambilkan Bulan Bu
  - Bulan Purnama
7. Tanda birama 4/4 memiliki arti ....
- setiap birama ada 1 ketukan
  - setiap birama bertanda 4
  - setiap birama ada 4 ketukan
  - setiap tanda ada 4 birama
8. Tanda - - - - - memiliki arti ....
- dinyanyikan dengan lantang
  - dinyanyikan dengan keras
  - dinyanyikan dengan semangat
  - dinyanyikan dengan lembut
9. Elemen paling penting dalam tarian adalah ....
- properti
  - suara
  - gerakan
  - musik
10. Contoh gerakan kaki dalam tarian adalah ....
- tangan berayun
  - menggelengkan kepala
  - melangkah maju
  - menepuk pundak

11. Kekuatan tangan dapat dilatih dengan kegiatan ....
- menari
  - berjalan
  - berlari
  - bergerak

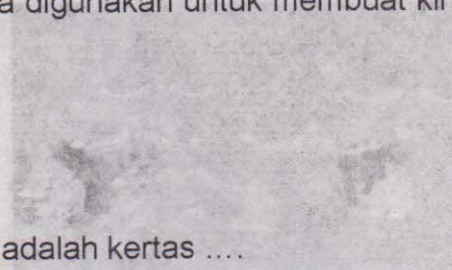
12. Perhatikan gambar di bawah ini!



- Posisi tangan sesuai dengan gambar di atas adalah ....
- menggelengkan kepala
  - bertolak pinggang
  - mengayunkan tangan
  - berlari di tempat

13. Kertas lipat warna-warni yang biasanya digunakan untuk membuat kincir angin adalah ....

- origami
- filio
- kalkir
- koran



14. Bahan utama membuat layang-layang adalah kertas ....

- minyak
- karton
- koran
- manila

15. Karya seni menempel dan menjahit termasuk karya seni ... dimensi.


- satu
- dua
- tiga
- empat

**II. Isilah titik-titik di bawah ini dengan jawaban yang benar pada lembar jawab yang disediakan!**

16. Hal yang ditonjolkan dalam lukisan dekoratif adalah ketajaman ... antara bidang yang satu dengan bidang yang lainnya.

17. Hal pertama yang harus ditentukan dalam membuat karya lukisan dekoratif adalah ....

18. Nama garis yang ada pada gambar di samping adalah ....



19. Salah satu contoh lagu yang dinyanyikan dengan perasaan bahagia adalah ....
20. Kuat lemahnya bunyi dibatasi oleh garis ....
21. Bunyi yang beraturan dan memiliki frekuensi tunggal tertentu disebut ....
22. Dalam diri kita membutuhkan energi untuk melakukan gerakan. Gerakan dalam tari dapat dibagi menjadi dua, yaitu ... dan ....
23. Gerak berasal dari seluruh anggota tubuh. Anggota tubuh bagian atas terdiri dari ....
24. Contoh kegiatan menyambung kain adalah....
25. Benda yang digunakan untuk menyatukan potongan-potongan kain adalah ....

**III. Jawablah pertanyaan-pertanyaan di bawah ini dengan jelas dan benar pada lembar jawaban yang disediakan!**

26. Apa tujuan pewarnaan pada gambar dekoratif?
27. Sebutkan tiga benda hiasan yang menggunakan gambar dekoratif!
28. Apa yang dimaksud dengan pola ritme?
29. Nama tari di bawah ini adalah .... dan berasal dari ....



30. Jelaskan cara membuat kincir angin dari kertas origami!

**Selamat Mengerjakan!**